

MATEMÁTICA – AULA 17

UNIDADE TEMÁTICA: PROBABILIDADE E ESTATÍSTICA.

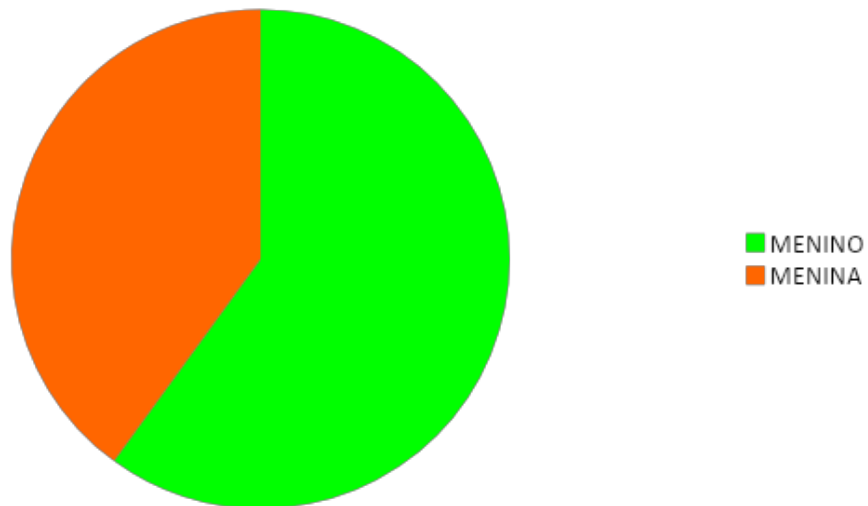
OBJETOS DO CONHECIMENTO: LEITURA, INTERPRETAÇÃO E REPRESENTAÇÃO DE DADOS EM TABELAS DE DUPLA ENTRADA E GRÁFICOS DE BARRAS. LEITURA, INTERPRETAÇÃO E COMPARAÇÃO DE DADOS APRESENTADOS EM TABELAS E GRÁFICOS DE COLUNAS.

FAMILIARES OU RESPONSÁVEIS, CASO SEJA NECESSÁRIO, LEIAM AS COMANDAS EM VOZ ALTA.

A SECRETARIA DA ESCOLA REALIZOU UMA PESQUISA COM OS ALUNOS DAS TURMAS DE 3º ANO.

NO GRÁFICO A SEGUIR, FOI REPRESENTADA A QUANTIDADE DE MENINAS E MENINOS DE 3º ANO QUE RESPONDERAM À PESQUISA.

DISTRIBUIÇÃO DOS ALUNOS DO 3º ANO - MENINOS E MENINAS

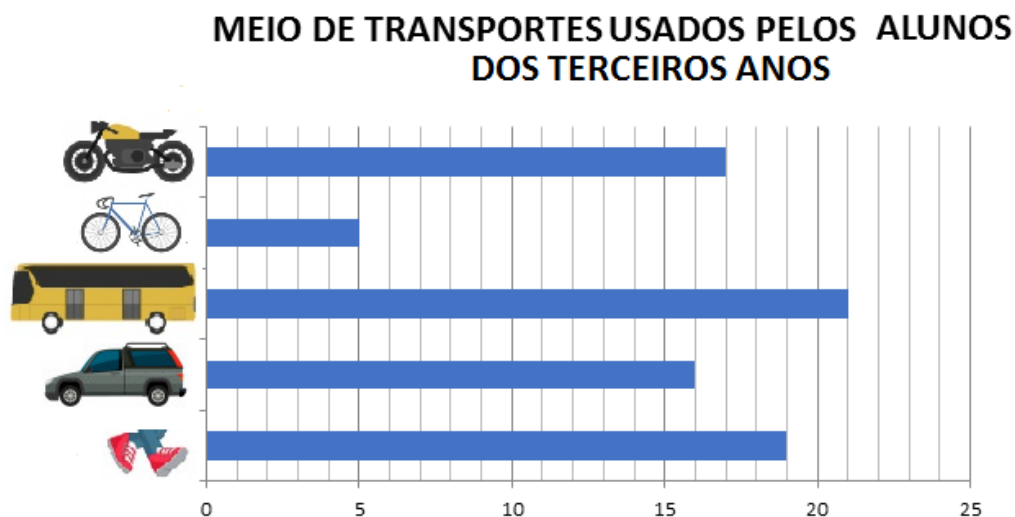


1- APENAS OBSERVANDO ESSE GRÁFICO, A MAIORIA DOS ALUNOS QUE RESPONDERAM A ESSA PESQUISA É:

() MENINO.

() MENINA.

2- UMA DAS PERGUNTAS DO QUESTIONÁRIO REALIZADO PELA SECRETARIA ERA: “QUAL MEIO DE TRANSPORTE VOCÊ UTILIZA PARA VIR À ESCOLA?”. VEJA O GRÁFICO QUE A ESCOLA MONTOU COM OS RESULTADOS:



IMAGENS: freepik.com

ANALISE O GRÁFICO E RESPONDA:

3- QUANTOS ALUNOS VÃO PARA A ESCOLA A PÉ? _____

4- QUAL É O MEIO DE TRANSPORTE MAIS USADO PELOS ALUNOS DO 3º ANO DESSA ESCOLA? _____

5- QUANTOS ALUNOS VÃO DE MOTO A MAIS DOS QUE VÃO DE CARRO? _____

6- NO TOTAL, QUANTOS ALUNOS VÃO DE BICICLETA E A PÉ? _____

7- NA ESCOLA DE ANA CLARA, HAVERÁ UMA MOSTRA CULTURAL EM QUE OS ALUNOS FORAM CONVIDADOS A APRESENTAREM BLOGS. NO ENTANTO, DEVERIAM ESCOLHER UM DOS 5 DIFERENTES TEMAS PARA ESCREVER: ALIMENTAÇÃO, SAÚDE, MODA, ESPORTE E CURIOSIDADES.

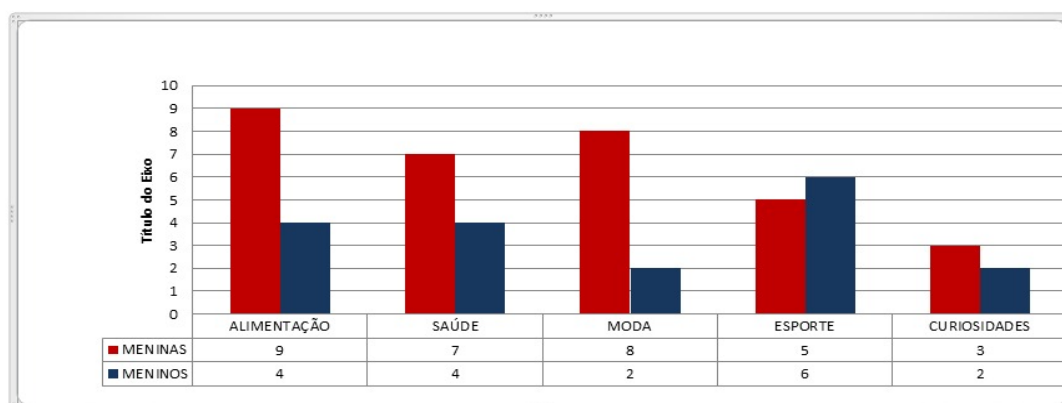


IMAGEM: freepik.com

DURANTE DUAS SEMANAS, OS ALUNOS FORAM ENTREVISTADOS SOBRE OS TEMAS DE SUA PREFERÊNCIA.

OBSERVE O GRÁFICO COM AS RESPOSTAS DOS ALUNOS E RESPONDA ÀS QUESTÕES.

PREFERÊNCIA DOS TEMAS



A) QUANTOS ALUNOS PARTICIPARAM DESSA PESQUISA? _____

B) QUAL FOI O TEMA MAIS ESCOLHIDO PELOS ALUNOS? _____

C) QUAL FOI O TEMA MENOS ESCOLHIDO PELAS MENINAS? _____